



**Instituto Federal de Educação, Ciência e Tecnologia do Rio Grande do Norte**  
**Pró-Reitoria de Ensino**  
**Coordenação de Acesso Discente**

---

## **Exame de Seleção – 2015**

---

**EDITAL Nº. 23/2014 - PROEN/IFRN**

### **ORIENTAÇÕES**

- Verifique se seu caderno de provas contém 03 textos, 40 questões (20 de Língua Portuguesa e 20 de Matemática) e uma orientação para produção textual.
  - Leia com bastante atenção cada texto deste caderno.
  - Leia com bastante atenção cada questão antes de responder.
  - Lembre-se de que, para cada questão, existe apenas uma resposta certa.
  - Transfira suas respostas para o Cartão de Respostas somente quando não for mais modificá-las.
  - Leia cuidadosamente a orientação e os critérios de correção para a produção escrita.
- 

**Candidato:**

---

**Nº de Inscrição:**

---

**Novembro - 2014**

## TEXTO 1

## ADIANTA REDUZIR A MAIORIDADE PENAL?

Por Miguel Martins

A julgar pelas pesquisas de opinião, o Brasil é um país majoritariamente conservador. Em 2013, o Instituto Datafolha aferiu que 48% dos brasileiros julgavam-se de direita ou de centro-direita, ante 30% da população que se identificavam com pautas progressistas. Tal distância entre os espectros reflete em parte a opinião dos cidadãos com relação a alguns temas. O casamento gay é rechaçado por 49,7% da população, segundo pesquisa da Confederação Nacional dos Transportes. São contrários ao aborto 71% dos brasileiros, de acordo com o Datafolha. Três quartos dos brasileiros, de acordo com a Universidade Federal de São Paulo, dizem ser contra a legalização da maconha. Essa tendência conservadora acentua-se de forma **descomunal** quando o tema é a proposta de redução da maioridade penal para 16 anos, aprovada por 89% da população, segundo pesquisa realizada por Vox Populi e Carta Capital no ano passado.


Embora criticada por juristas e especialistas em políticas públicas voltadas à criança e ao adolescente, a proposta tem ganhado fôlego no Congresso. Criada em 2011, a Frente Parlamentar pela Redução da Maioridade Penal conta com o apoio de mais de 200 deputados. A Proposta de Emenda Constitucional que defende o novo limite, de autoria do senador tucano Aloysio Nunes, deve ir a plenário ainda este ano. Como opção à PEC de Nunes, um grupo encabeçado pelos parlamentares Humberto Costa e Eduardo Suplicy, com participação da ministra dos Direitos Humanos, Ideli Salvatti, estuda apresentar um projeto que aumenta o tempo de pena para jovens infratores reincidentes em crimes graves, entre eles homicídio, latrocínio e estupro.

Ambas as propostas parecem ignorar a exaustão do sistema carcerário brasileiro, que convive com superlotação nas prisões comuns e nos centros de atendimento socioeducativo. A redução da maioridade penal poderia inflar ainda mais a população carcerária, atualmente superior a 550 mil presos, responsável por posicionar o Brasil entre os quatro países com maior número de presos no mundo. A situação poderia ser pior. Segundo um levantamento do Conselho Nacional de Justiça de 2012, há mais de 500 mil mandados de prisão não cumpridos, o que poderia dobrar a população carcerária brasileira. Na outra ponta, a proposta esbarra na falta de espaço nos centros destinados à criança e ao adolescente. Em São Paulo, 90% das unidades da Fundação Casa apresentam superlotação.

Para Pedro Serrano, professor de Direito Constitucional da PUC, o Brasil atravessa um momento em que o clima político, cultural e midiático estimula o “punitivismo”: as soluções escolhidas para enfrentar a violência passam sempre pelo endurecimento das penas. “Acredita-se que há impunidade no Brasil, mas não é verdade. Punimos muito, mas punimos mal”. Segundo o jurista, as condições insalubres dentro das prisões impedem o maior controle por parte do Estado. “**Isso** estimula o surgimento do crime organizado. Ao se colocar na cadeia um usuário de drogas como se fosse um traficante, ele pode se tornar mais à frente um homicida”. Serrano menciona o caso dos Estados Unidos, onde se estima que 250 mil jovens são processados, sentenciados ou encarcerados como adultos todo ano. Apesar de as taxas de criminalidade terem caído no país desde os anos 1990, um estudo do Centro de Controle de Doenças e Prevenção (CDC) estimou que jovens presos ao lado de adultos têm 34% mais chance de voltar a cometer crimes.

Fabio Paes, representante da ONG Aldeias Infantis e integrante do Conselho Nacional dos Direitos da Criança e do Adolescente, afirma que a formulação das perguntas sobre o tema nas pesquisas de opinião pode levar a distorções. Ele afirma que a adesão à proposta é motivada pelo desconhecimento da população das políticas públicas desenvolvidas pelo Ministério do Desenvolvimento Social e pela Secretaria de Direitos Humanos. O Sistema Nacional de Atendimento Socioeducativo, programa da SDH criado em 2012, busca garantir nacionalmente o cumprimento de modalidades previstas na legislação da criança e do adolescente que escapem à mera aplicação da punição. Há oito medidas que deveriam complementar a internação, dentre elas, a inclusão em programas comunitários, o tratamento médico, psicológico ou psiquiátrico e a participação dos jovens em programas para alcoólatras e dependentes químicos.

Portanto, antes de se cogitar investir em soluções ineficazes como a redução da maioridade penal, é importante dar uma chance para aquilo que está à disposição, mas não é aplicado.



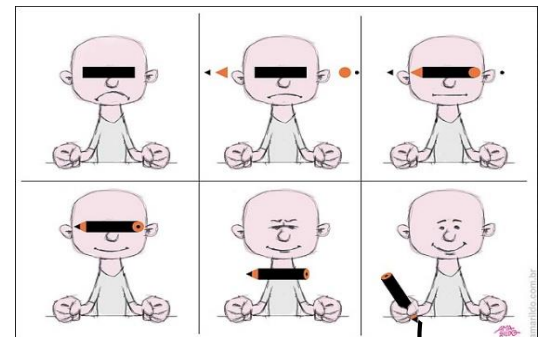
Disponível em: <<https://www.chargeonline.com.br>> Acesso em: 09 nov. 2014.

**1) O Texto 1 utiliza-se da exposição para**

- a) narrar.
- b) explicar.
- c) descrever.
- d) argumentar.

**2) O objetivo principal do primeiro parágrafo do Texto 1 é**

- a) analisar a problemática focalizada no texto.
- b) introduzir a problemática a ser discutida no texto.
- c) mostrar a tendência progressista da sociedade brasileira.
- d) instituir a polêmica acerca do conservadorismo dos brasileiros.



*Português*

**3) O último parágrafo do Texto 1**

- a) cumpre o papel de desenvolver a discussão introduzida no primeiro parágrafo do texto.
- b) cumpre o papel de explicitar a opinião do autor sobre a problemática discutida no texto.
- c) apresenta uma proposta de solução que se contrapõe à orientação argumentativa assumida no texto.
- d) apresenta uma proposta comprovadamente ineficaz para solucionar a problemática discutida no texto.

**4) De acordo com o Texto 1, o sistema carcerário no Brasil está**

- a) modernizado.
- b) adequado.
- c) saturado.
- d) devoluto.

**5) Mantendo-se o seu sentido original, no primeiro parágrafo do Texto 1, a palavra *DESCOMUNAL* pode ser substituída por**

- a) decisiva.
- b) excessiva.
- c) desfavorável.
- d) determinante.

**6) No quarto parágrafo do Texto 1, o elemento linguístico *ISSO* tem como referente a expressão**

- a) soluções escolhidas.
- b) condições insalubres.
- c) endurecimento das penas.
- d) clima, político, cultural e midiático.

Considere o trecho abaixo, selecionado do Texto 1, para responder às questões de número 07, 08 e 09.

**Embora** criticada por juristas e especialistas em políticas públicas voltadas à criança e ao adolescente, a proposta tem **ganhado fôlego** no Congresso. Criada em 2011, a Frente Parlamentar pela Redução da Maioridade Penal conta com o apoio de mais de 200 deputados. A Proposta de Emenda Constitucional **que** defende o novo limite, de autoria do senador tucano Aloysio Nunes, deve ir a plenário ainda este ano. Como opção à PEC de Nunes, um grupo encabeçado pelos parlamentares Humberto Costa e Eduardo Suplicy, com participação da ministra dos Direitos Humanos, Ideli Salvatti, estuda apresentar um projeto **que** aumenta o tempo de pena para jovens infratores reincidentes em crimes graves, entre eles homicídio, latrocínio e estupro.

7) O elemento linguístico **EMBORA** introduz uma relação de

- a) consequência.
- b) concessão.
- c) oposição.
- d) causa.

8) Sobre o uso da expressão **GANHADO FÔLEGO**, é correto afirmar que

- a) ilustra uma variante regional.
- b) foi usada em sentido denotativo.
- c) foi usada em sentido conotativo.
- d) ilustra o registro formal escrito.

9) Nas ocorrências destacadas, o elemento linguístico **QUE** tem valor de

- a) conjunção subordinativa nas duas ocorrências.
- b) conjunção coordenativa apenas na primeira ocorrência.
- c) pronome relativo apenas na segunda ocorrência.
- d) pronome relativo nas duas ocorrências.

Considere os trechos selecionados do Texto 1 para responder às questões 10 e 11

I - A proposta de Emenda Constitucional que defende o novo limite, de autoria do senador tucano Aloysio Nunes, **deve** ir ao plenário ainda este ano.  
II - Segundo um levantamento do Conselho Nacional de Justiça de 2012, **há** mais de 500 mil mandados de prisão não cumpridos, o que **poderia** dobrar a população carcerária brasileira.

10) Sobre o uso das formas verbais sublinhadas nos trechos I e II, é correto afirmar que

- a) a primeira e a segunda têm sentido de possibilidade.
- b) a primeira tem sentido de obrigatoriedade e a segunda de certeza.
- c) a segunda tem sentido de permissibilidade e a primeira de necessidade.
- d) a segunda tem sentido de possibilidade e a primeira de obrigatoriedade.

11) No trecho II, respeitando-se as convenções da norma culta, a forma verbal **HÁ** pode ser substituída por

- a) tem.
- b) têm.
- c) existe.
- d) existem.

Leia o trecho a seguir para responder às questões 12 e 13.

**Acredita-se** que há impunidade no Brasil, mas não é verdade. **Punimos** muito, mas punimos mal.

12) Sobre a organização sintática do período destacado, é correto afirmar que

- a) entre as 4 orações, a primeira é principal, a segunda é coordenada e a quarta é principal.

- b) entre as 4 orações, a primeira é principal, a penúltima é principal e a última é subordinada.
- c) entre as 5 orações, a primeira é principal, a segunda é subordinada e a terceira é coordenada.
- d) entre as 5 orações, a primeira é principal, a segunda é coordenada e a terceira é subordinada.

**13) Respectivamente, os sujeitos das formas verbais *ACREDITA-SE* e *PUNIMOS* classificam-se como**

- a) elíptico e elíptico.
- b) indeterminado e elíptico.
- c) inexistente e inexistente.
- d) indeterminado e indeterminado.

**14) A principal intenção comunicativa do Texto 2 é**

- a) informar.
- b) criticar.
- c) relatar.
- d) expor.

**15) A leitura dos elementos verbais e não verbais do Texto 2 permite afirmar que**

- a) todos os adolescentes morrem muito cedo.
- b) todos os infratores são adolescentes pobres.
- c) os adolescentes pobres morrem muito cedo.
- d) os infratores são sempre pobres problemáticos.

**16) No Texto 2, os elementos linguísticos *NUNCA* e *LÁ* têm, respectivamente, sentido de**

- a) negação e tempo.
- b) certeza e tempo.
- c) negação e lugar.
- d) certeza e lugar.

**17) A leitura do Texto 3 permite afirmar que**

- a) a justiça é favorável à redução da maioria penal.
- b) os menores, em geral, são organizados e agem com violência.
- c) os menores infratores não representam perigo para a sociedade.
- d) a justiça está cega em relação à violência cometida pelos menores.

**18) Assinale a opção em que a reescrita do enunciado do Texto 3 mantém seu sentido.**

- a) Se a justiça morrer, a maioria penal será reduzida.
- b) Caso a maioria penal seja reduzida, a justiça morrerá.
- c) Logo que a maioria penal for decretada, a justiça morre.
- d) A justiça morreu desde que a redução da maioria penal foi decretada.

**19) Os textos 1, 2 e 3 apresentam em comum**

- a) o gênero textual.
- b) o recorte temático.
- c) o registro informal.
- d) a linguagem não verbal.

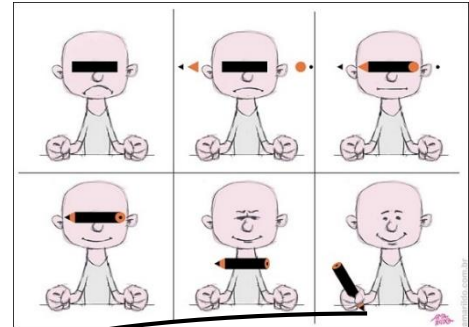
**20) Quanto ao gênero textual, é correto afirmar que**

- a) o Texto 1 é uma reportagem.
- b) o Texto 1 é um editorial.

- c) o Texto 2 é uma tirinha.  
d) o Texto 3 é uma charge.

21) O Texto 1 apresenta vários tipos de números. Dentre as sequências abaixo, a que representa, respectivamente, números dos conjuntos dos racionais, irracionais, naturais e inteiros, é

- a) 48%;  $\pi$ ; 5,0; 18.  
b)  $\frac{3}{10}$ ; 3,14; 2012; -6.  
c) 0,9;  $\sqrt{2}$ ; 550; 1,5.  
d) 2013;  $4,5$ ;  $-\frac{71}{100}$ ; 71.



*Matemática*

22) Levando em consideração os dados apresentados no terceiro parágrafo do Texto 1, se todos os mandados de prisão fossem cumpridos, em 2012, haveria encarcerados

- a) menos de 1 milhão de presos.  
b) mais de 1 milhão e meio de presos.  
c) exatamente 1,05 milhões de presos.  
d) aproximadamente 1,10 milhões de presos.

23) Em um levantamento feito em 2013 com 2.000 moradores, em uma capital brasileira, no que diz respeito à redução da maioridade penal, constatou-se que  $\frac{4}{5}$  dos entrevistados eram a favor da redução para 16 anos. Em relação à população pesquisada, se levarmos em consideração o percentual nacional apresentado no primeiro parágrafo do Texto 1, a diferença entre os que defendem a redução da maioridade penal para 16 anos no Brasil e os que defendem a redução nessa capital, em 2013, é de

- a) 180 entrevistados.  
b) 210 entrevistados.  
c) 150 entrevistados.  
d) 240 entrevistados.

24) Considere os dados percentuais apresentados no primeiro parágrafo do Texto 1, pelo instituto Datafolha em 2013, no que diz respeito ao modo de pensar dos brasileiros sobre determinados temas. Se chamarmos de X os brasileiros que se julgam de direita ou centro-direita, de Y os que compactuam com pautas progressistas e de Z os que não se enquadram em nenhuma dessas duas denominações, a expressão algébrica que determina o número P de pessoas pesquisadas é dada por

- a)  $P = 48X + 30Y + 22Z$ .  
b)  $P = 0,48X + 0,30Y + 0,22Z$ .  
c)  $P = 30X + 22Y + 48Z$ .  
d)  $P = 0,48X + 0,22Y + 0,30Z$ .

25) Assumindo os balões de diálogo do Texto 2 como circunferências, se o balão maior tem diâmetro igual a 4cm e o menor tem raio igual a  $\frac{4}{5}$  do maior, a razão entre o comprimento da circunferência maior e o da circunferência menor é

- a)  $\frac{4}{5}$                       b)  $\frac{5}{6}$                       c)  $\frac{5}{4}$                       d)  $\frac{6}{5}$

As questões 26 e 27 deverão ser respondidas com base no texto abaixo.

Uma escola do Ensino Médio de uma cidade do interior planejou um ciclo de palestras para debater temas como a homofobia, a legalização do aborto e a redução da maioridade penal. Para divulgar o evento, elaborou cartazes de formato retangular de dimensões 45cm por 30cm, conforme a figura 1.

26) A região em destaque na figura 1, que corresponde à área do cartaz onde serão colocadas as informações, mede

- a)  $1.092\text{cm}^2$ .
- b)  $1.088\text{cm}^2$ .
- c)  $1.020\text{cm}^2$ .
- d)  $1.055\text{cm}^2$ .

27) Para confeccionar os cartazes, uma gráfica cobra R\$ 13,50 por metro quadrado de papel. Se a escola vai confeccionar 40 cartazes, o valor pago a essa gráfica será de

- a) R\$ 55,80.
- b) R\$ 87,50.
- c) R\$ 45,70.
- d) R\$ 72,90.




Figura 1

28) Em uma cidade de 150.000 habitantes, 40% se declaram de direita. Se, nessa cidade, para os que se declaram de direita, for mantido o mesmo percentual de pessoas que se dizem favoráveis à redução da maioridade penal para 16 anos, apresentado pela pesquisa do Vox Populi e Carta Capital informada no primeiro parágrafo do Texto 1, o número de habitantes dessa cidade que são ao mesmo tempo de direita e favorável à redução da maioridade penal para 16 anos é de

- a) 60.000.
- b) 53.400.
- c) 75.200.
- d) 45.000.

29) De acordo com o Datafolha, 71% dos brasileiros são contrários ao aborto. Com base nesses dados e considerando que esse percentual também se reflete em cada cidade do país, a função que melhor representa o número de habitantes  $y$  de uma cidade brasileira em função do número de pessoas  $x$  que são a favor do aborto é dada por

- a)  $y = 0,71x$ .
- b)  $y = 0,29x$ .
- c)  $y = \frac{100}{71}x$
- d)  $y = \frac{100}{29}x$ .

30) Um grupo de 4 alunos de Natal conseguiu aprovar um trabalho em um Evento Nacional, na cidade de Fortaleza, cujo tema era “A Sociedade contra o Preconceito”. Fazendo a pesquisa de preços para a viagem, encontraram um pacote em que cada uma teria de desembolsar R\$ 450,00, incluindo hotel e passagens. Como não tinham esse dinheiro, conseguiram com Fernando o financiamento da viagem e acordaram pagar o empréstimo dois meses depois com juros simples de 5% ao mês. Se todos cumpriram o acordo e pagaram no tempo certo, o valor recebido por Fernando foi de

- a) R\$ 1.980,00.
- b) R\$ 1.880,00.
- c) R\$ 1.890,00.
- d) R\$ 1.900,00.



31) Para reformar um prédio que abriga menores infratores, a prefeitura de uma cidade contratou 12 trabalhadores para trabalhar 6 horas por dia durante 4 meses. Se a prefeitura quisesse terminar a obra na metade do tempo, a quantidade de operários que ela teria de contratar a mais, sabendo que agora eles trabalhariam 8 horas por dia, era de

- a) 8.
- b) 6.
- c) 14.
- d) 18.

32) De acordo com as informações da última frase do 4º parágrafo do Texto 1, nos Estados Unidos, a chance de uma quantidade  $P$  de jovens de um grupo  $x$  de jovens presos ao lado de adultos voltarem a cometer crimes pode ser estimado pela expressão

- a)  $P(x) = 1,34x$ .
- b)  $P(x) = 3,4x$ .
- c)  $P(x) = 0,34x$ .
- d)  $P(x) = 34x$ .

33) Para comemorar seu aniversário, uma empresa engarrafadora de água decidiu fazer miniaturas de sua garrafa padrão. Considerando que a altura da garrafa padrão é de 0,27m e a altura da miniatura é 90mm e ainda que os dois objetos são completamente proporcionais, é correto afirmar que a escala utilizada para fazer a miniatura foi de

- a)  $\frac{1}{3}$
- b)  $\frac{1}{30}$
- c)  $\frac{1}{300}$
- d)  $\frac{1}{30000}$



34) É comum os meios de comunicação compararem a distribuição de pessoas em quantidades de campos de futebol. Considerando um padrão de 5 pessoas por  $m^2$ , se fossem colocados todos os 550 mil presos citados no Texto 1 distribuídos em campos oficiais de futebol com o formato retangular de 68m por 105m, no mínimo, seriam necessários

- a) 14 campos de futebol.
- b) 15 campos de futebol.
- c) 16 campos de futebol.
- d) 17 campos de futebol.

35) No estado do Rio de Janeiro, durante o ano de 2013, 7.222 jovens foram encaminhados a delegacias acusados de cometerem algum crime. O detalhamento dos tipos desses crimes é apresentado na tabela 1.

Tabela 1: Número de apreensões por tipo de lesão – ano 2013

ANO 2013 (JAN-DEZ) - TOTAL DE 7.222 APREENSÕES			
TRAFICO	41,53%	LESÃO CORPORAL	2,76%
ROUBO	27,92%	RECEPTAÇÃO	2,43%
FURTO	13,65%	NÃO INFORMADO	1,65%
ARMAS	5,23%	HOMICÍDIO	1,24%
OUTROS ARTIGOS	3,59%	<b>TOTAL</b>	<b>100,00%</b>

Disponível em: <<http://odia.ig.com.br/noticia/rio-de-janeiro/2014-07-28/trafico-representa-41-de-casos-envolvendo-menores.html#>>. (adaptado). Acesso em: 25 out.2014.



De acordo com os dados informados na tabela 1, é correto afirmar que, aproximadamente,

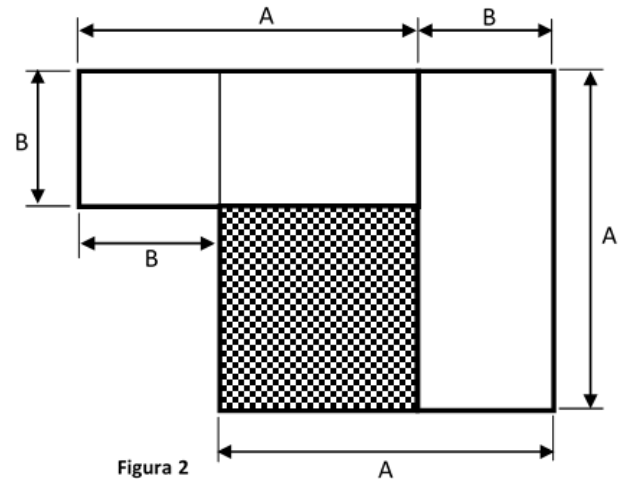
- a) 98 jovens foram acusados de homicídio.
- b) 223 jovens foram acusados de lesão corporal.
- c) 2.857 jovens foram acusados de tráfico.
- d) 2.016 jovens foram acusados de roubo.

36) Como medida socioeducativa, um grupo de infratores deverá plantar grama em uma área circular de uma praça. Se essa praça tem o formato de um círculo de 50m de diâmetro e considerando  $\pi = 3,14$ , é correto afirmar que, aproximadamente, serão plantados

- a) 78dam<sup>2</sup> de grama.
- b) 196m<sup>2</sup> de grama.
- c) 20dam<sup>2</sup> de grama.
- d) 110m<sup>2</sup> de grama.

37) Dada a figura 2 ao lado, a área do quadrado quadriculado é igual a

- a)  $A^2 + 2AB - B^2$ .
- b)  $A^2 - 2AB + B^2$ .
- c)  $A^2 - B^2$ .
- d)  $A^2 + B^2$ .

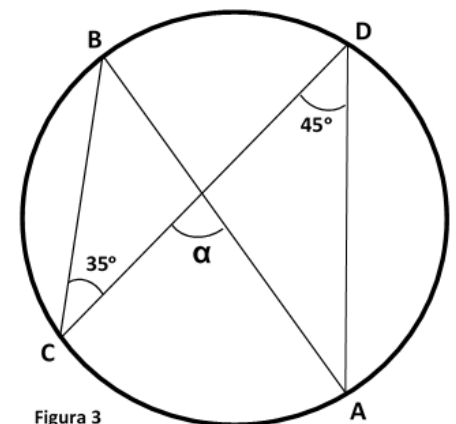


38) Numa classe do 9º ano, foi realizada uma pesquisa sobre a mudança da maioria penal, onde todos opinaram a favor ou contra. O número de alunos que discorda da mudança multiplicado pelo número de alunos que concorda é igual a 247. Se 7 alunos que faltaram à aula naquele dia opinarem contra a mudança, o novo produto entre a quantidade de alunos com opiniões contrárias passa a ser de 338. De acordo com essas informações, é correto afirmar que o número de alunos a favor da mudança da maioria penal é igual a

- a) 13.
- b) 19.
- c) 21.
- d) 26.

39) De um ponto A de uma sala circular, Marquinhos chuta uma bola que ricocheteia em B, depois em C, em seguida em D e torna a bater no ponto A, conforme mostra a figura 3. Para que isso fosse possível, o valor do ângulo  $\alpha$  foi exatamente de

- a) 120°.
- b) 100°.
- c) 90°.
- d) 80°.



40) Tomando por base o terceiro parágrafo do Texto 1 e assumindo que existiam em 2012, no Brasil, exatamente 550 mil presos e outros 500 mil com mandados de prisão não cumpridos, se fossem relacionados todos os nomes dessas pessoas e selecionado, aleatoriamente, o nome de apenas uma delas, a probabilidade de que essa pessoa, em 2012, já estivesse presa era, aproximadamente, de

- a)  $\frac{10}{21}$
- b)  $\frac{9}{11}$
- c)  $\frac{11}{21}$
- d)  $\frac{10}{11}$

## PROPOSTA DE PRODUÇÃO TEXTUAL

Antes de iniciar sua produção escrita, leia os textos a seguir, as orientações e os critérios de correção.

### TEXTO 4

#### Cresce número de delitos com participação de adolescentes

A soma dos crimes de roubo e homicídio praticados por adolescentes no Rio Grande do Norte teve um aumento de 160% em quatro anos, passando de 331 casos para 863 entre 2010 e 2013. Somente nos oito primeiros meses de 2014 (de janeiro a agosto), esses tipos de delitos cometidos por jovens com menos de 18 anos já chegam a 715 — 82,8% do registrado em todo o ano passado.

Disponível em: <<http://tribunadonorte.com.br>>. Acesso em: 16 out. 2014.

### TEXTO 5

#### OPINIÃO

#### Reduzir a maioria penal dos 18 para os 16 anos divide opiniões. Conheça alguns argumentos

##### A FAVOR



Para os favoráveis à mudança da legislação, os adolescentes de agora têm informações e conhecimentos suficientes para saber o que é errado e quais são as consequências dos seus atos. Esse ponto de vista tem amplo apoio da opinião pública. Em uma pesquisa publicada no dia 17 de abril pelo Instituto Datafolha, 93% dos paulistanos disseram apoiar a medida. O endurecimento das leis para combater a sensação da impunidade e evitar que novos crimes ocorram é outro argumento defendido.

##### CONTRA



Já para os contrários à diminuição da idade penal, o investimento em educação e a garantia dos direitos fundamentais são mais eficientes para reduzir a criminalidade entre os adolescentes. Sob esse ponto de vista, colocar os jovens infratores nos presídios faria com que eles saíssem como criminosos piores. O professor de Direito do Unicuitiba e Promotor de Justiça Mário Luiz Ramidoff também defende que os adolescentes dos 12 aos 18 anos incompletos sabem o que é certo e errado, mas ainda não têm maturidade.

### ORIENTAÇÕES PARA A PRODUÇÃO ESCRITA

Nos últimos dias, o debate em torno da redução da maioria penal no Brasil retornou à mídia, dividindo opiniões nas redes sociais. Considerando a atualidade da temática, o “Jornal Poder Jovem”, que circula *online*, abriu espaço para seus leitores publicarem textos sobre essa problemática. A partir de seus conhecimentos prévios sobre o tema e da leitura dos textos desta prova, na condição de leitor desse jornal, escreva um **artigo de opinião**, defendendo um ponto de vista sobre a seguinte questão: **a redução da maioria penal resolveria o problema da violência no Brasil?**

### ORIENTAÇÕES E CRITÉRIOS DE CORREÇÃO

Ao escrever seu texto, use caneta esferográfica azul ou preta, escreva com letra legível e identifique-se apenas no local indicado. Assine o texto com o pseudônimo de **Justus da Silva**. Você poderá utilizar informações presentes na prova, sem, contudo, se limitar a copiar integralmente trechos desta avaliação. Além disso, não faça desenhos e/ou marcas na Folha de Resposta da questão discursiva.

Lembre-se de que seu texto será avaliado, levando-se em consideração os seguintes critérios:

